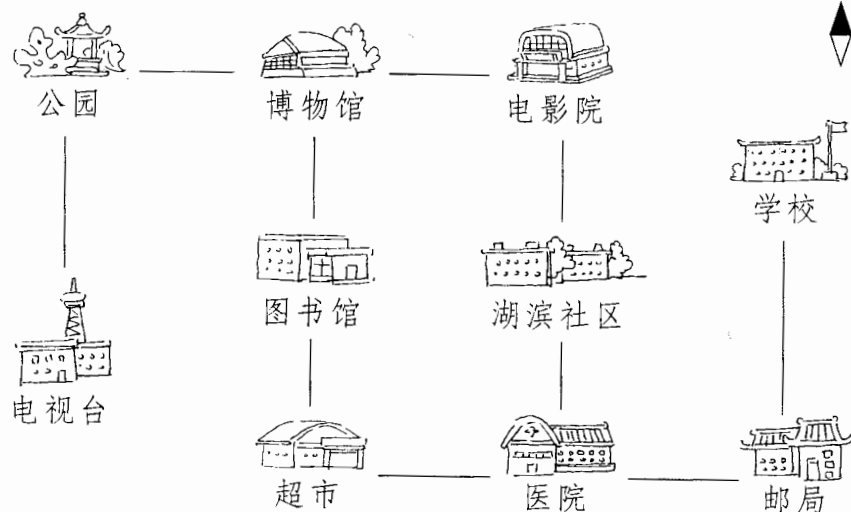




5. 强强家住湖滨社区。



(1) 强强上学的路线：

先向()走到医院,再向()走到邮局,最后向()走到学校。

(2) 强强放学的路线：

先向()走到邮局,再向()走到医院,最后向()走到湖滨社区。

(3) 星期天,强强从家里出发,先向南,再向西,然后向北……

强强可能要去()。


6. (1) 商店运来 5 箱可乐,每箱 6 瓶。卖出 2 瓶,还剩多少瓶?

(2) 商店运来 5 箱可乐,每箱 6 瓶。卖出 2 箱,还剩多少瓶?

7. (1) 王师傅正在做蛋糕,已经做好了 8 盒,每盒 4 个。王师傅一共要做多少个蛋糕?



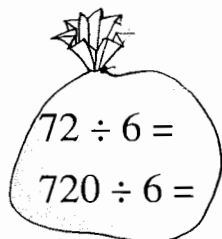
王师傅,再做 2 个就够了!



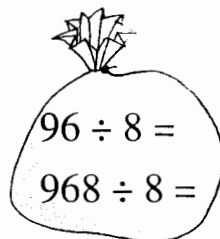


【6】两、三位数除以一位数

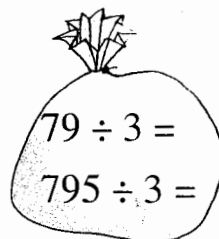
1. 比一比, 算一算。



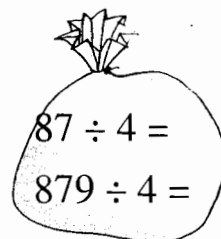
$$\begin{array}{l} 72 \div 6 = \\ 720 \div 6 = \end{array}$$



$$\begin{array}{l} 96 \div 8 = \\ 968 \div 8 = \end{array}$$



$$\begin{array}{l} 79 \div 3 = \\ 795 \div 3 = \end{array}$$



$$\begin{array}{l} 87 \div 4 = \\ 879 \div 4 = \end{array}$$

2.

$$\begin{array}{r} \square \square \square \\ 3 \overline{) 396} \\ \square \\ \hline \square \\ \square \\ \hline \square \\ \square \\ \hline \square \\ \square \\ \hline \square \end{array}$$

$$\begin{array}{r} \square \square \square \\ 6 \overline{) 788} \\ \square \\ \hline \square \square \\ \square \square \\ \hline \square \\ \square \\ \hline \square \end{array}$$

$$\begin{array}{r} \square \square \\ \square \overline{) 65\square} \\ \square \square \\ \hline \square \square \\ \square \square \\ \hline 3 \end{array}$$

3. 计算。

$$4 \overline{) 86}$$

$$3 \overline{) 942}$$

$$4 \overline{) 916}$$

$$8 \overline{) 89}$$

$$6 \overline{) 936}$$

$$5 \overline{) 427}$$

4. 解决问题。

一本《快乐数学》共 180 页, 迪迪 3 天看了 24 页。

(1) 他平均每天看多少页?

(2) 你还能提出什么数学问题? 写一写, 算一算。





单元复习(一)

1. 先不计算,想一想,估计哪一题的结果比较大,在○里打“√”。

$$\begin{array}{l} 7 \times 6 + 3 \quad \bigcirc \\ 7 \times (6 + 3) \quad \bigcirc \end{array}$$

$$\begin{array}{l} 12 + 18 \div 6 \quad \bigcirc \\ (12 + 18) \div 6 \quad \bigcirc \end{array}$$

$$\begin{array}{l} 36 \div (4 + 5) \quad \bigcirc \\ 36 \div 4 + 5 \quad \bigcirc \end{array}$$

再算一算,你估计得对吗?

$$7 \times 6 + 3$$

$$12 + 18 \div 6$$

$$36 \div (4 + 5)$$

$$7 \times (6 + 3)$$

$$(12 + 18) \div 6$$

$$36 \div 4 + 5$$

2. 计算。

$$52 - 32 \div 4$$

$$(21 - 14) \times 8$$

$$28 \div 4 \times 7$$

$$48 \div (84 - 76)$$

$$9 \times 6 + 48$$

$$85 - (56 + 15)$$

3. 看图计算。

$$\bullet - \star \star \star = 24$$

$$\bullet = 42 \quad \star = (\quad)$$

$$\blacksquare \blacksquare \blacksquare \blacksquare \blacksquare = 35$$

$$\blacktriangle = 13 \quad \blacktriangle - \blacksquare = (\quad)$$

$$\star \star \star \star = 28$$

$$\star \star \star \star = 12$$

$$\star - \star = (\quad)$$

$$\bullet \bullet + \blacksquare \blacksquare \blacksquare = 24$$

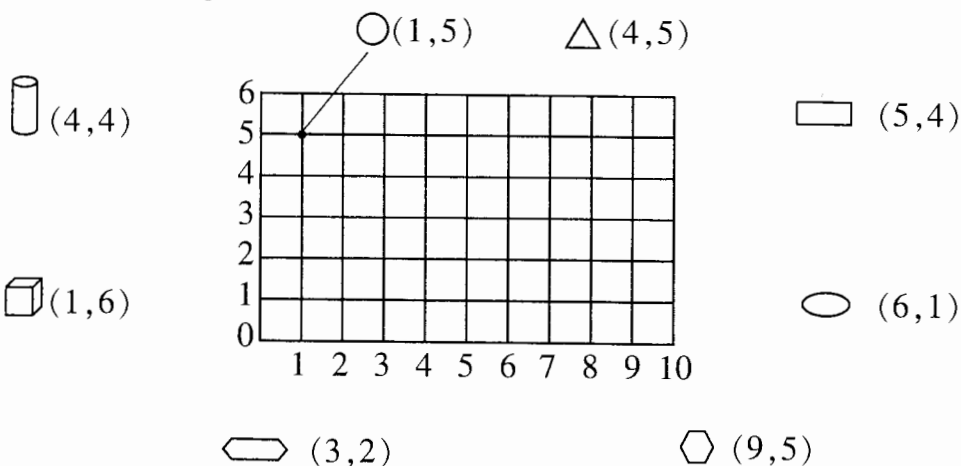
$$\blacksquare \blacksquare \blacksquare + \bullet \bullet \bullet \bullet \bullet = 51$$

$$\bullet = (\quad)$$

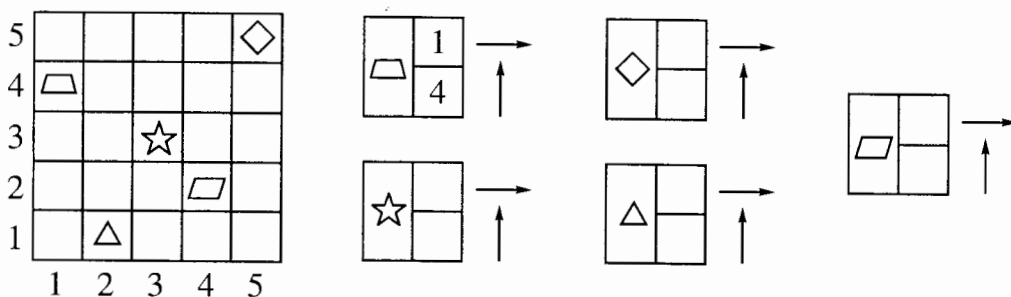


单元复习(二)

1. 照样子连一连。



2. 根据各种图形在方格图中的位置,填出空格里的数。



3. 观察左边的图形,从正面看到的形状画“○”,侧面看到的形状画“△”,上面看到的形状画“☆”。

